

SEGNA CON UNA X LA RISPOSTA ESATTA

- QUAL E' LA SCRITTURA IN CIFRE DI
trecentosessantadue ?

a) 326

b) 632

c) 362

- A QUALE SCRITTURA CORRISPONDE IL NUMERO IN CIFRE
659

a) novecentocinquantasei

b) seicentocinquantanove

c) cinquecentosessantadue

- A QUALE SCOMPOSIZIONE CORRISPONDE IL NUMERO
928 ?

a) 8h 2da 9u

b) 9h 2da 8u

c) 2h 9da 8u

- A QUALE NUMERO CORRISPONDE LA SEGUENTE SCOMPOSIZIONE ?
8h 6 da 3u

a) 368

b) 683

c) 863

- A QUALE RISULTATO CORRISPONDE LA SEGUENTE OPERAZIONE ?
 $18 + 12 =$

a) 22

b) 20

c) 30

- A QUALE RISULTATO CORRISPONDE LA SEGUENTE OPERAZIONE ?

$$90 - 15 =$$

a) 85

b) 75

c) 105

- A QUALE RISULTATO CORRISPONDE LA SEGUENTE OPERAZIONE ?

$$8 \times 9 =$$

a) 63

b) 76

c) 72

- A QUALE RISULTATO CORRISPONDE LA SEGUENTE OPERAZIONE ?

$$48 : 6 =$$

a) 8

b) 9

c) 7

- Il nonno di Alberto regala 5 macchinine ad ognuno dei suoi 4 nipoti.

Quante macchinine regala in tutto il nonno di Alberto?

a) 9

b) 20

c) 25

- Osvaldo possiede 4 macchinine rosse, 5 macchinine gialle e 3 moto.

Quante macchinine ha in tutto Osvaldo?

a) 12

b) 9

c) 20

■ CHE LINEA E' ?



a) spezzata

b) retta

c) curva

■ CHE LINEA E' ?

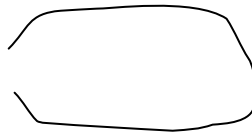


a) mista

b) spezzata

c) retta

■ CHE LINEA E' ?

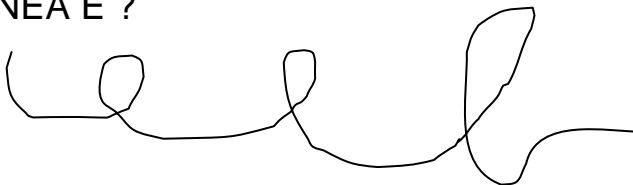


a) curva aperta

b) curva chiusa

c) mista chiusa

■ CHE LINEA E ?

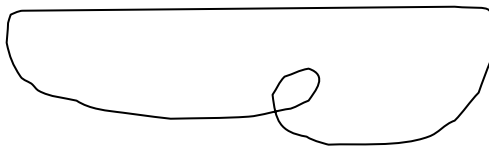


a) mista

b) intrecciata

c) curva

■ CHE LINEA E' ?

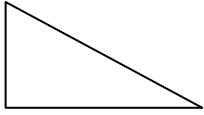


a) chiusa semplice

b) chiusa intrecciata

c) aperta intrecciata

CHE FIGURA E' ?



a) triangolo

b) rettangolo

c) quadrato

CHE FIGURA E' ?



a) rettangolo

b) quadrato

c) triangolo

CHE FIGURA E' ?



a) quadrato

b) cerchio

c) triangolo

CHE FIGURA E' ?

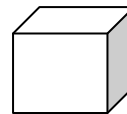


a) cerchio

b) triangolo

c) quadrato

CHE SOLIDO E' ?



A) parallelepipedo

b) cubo

c) cono

- COLLEGA CON UNA FRECCIA SECONDO LA RELAZIONE :
“ E’ IL PRECEDENTE DI... “ **847**

- a) b) c)

- COLLEGA CON UNA FRECCIA SECONDO LA RELAZIONE :
“ E’ IL SUCCESSIVO DI ... “

89

- a) b) c)

- COLLEGA CON UNA FRECCIA SECONDO LA RELAZIONE :
“ MANGIA “



- a) b) c)

- COLLEGA CON UNA FRECCIA SECONDO LA RELAZIONE :
“ SI MUOVE ... “



- a) b) c)

- COLLEGA CON UNA FRECCIA SECONDO LA RELAZIONE :
“ E’ FATTO DI ... “



- a) b) c)

INDICA CON UNA X LO STRUMENTO GIUSTO

- Cosa useresti per pesare delle albicocche?
a) b) c)

- Cosa useresti per misurare il lato di un poligono?
a) b) c)

- Per sapere se tu sei cresciuto, come ti misura la mamma ? Con ...
a) b) c)

- Per sapere se hai la febbre, cosa ti danno per misurarla ?
a) b) c)

- Un panettiere vuole sapere quanta farina gli rimane ancora per produrre il pane, cosa fa per misurarla?
a) b) d)